

X'TEN X'E



Aşağıdaki tabloda x'den başlayıp bütün karelerden birer defa geçerek yeniden x'e geliniz.

	X			

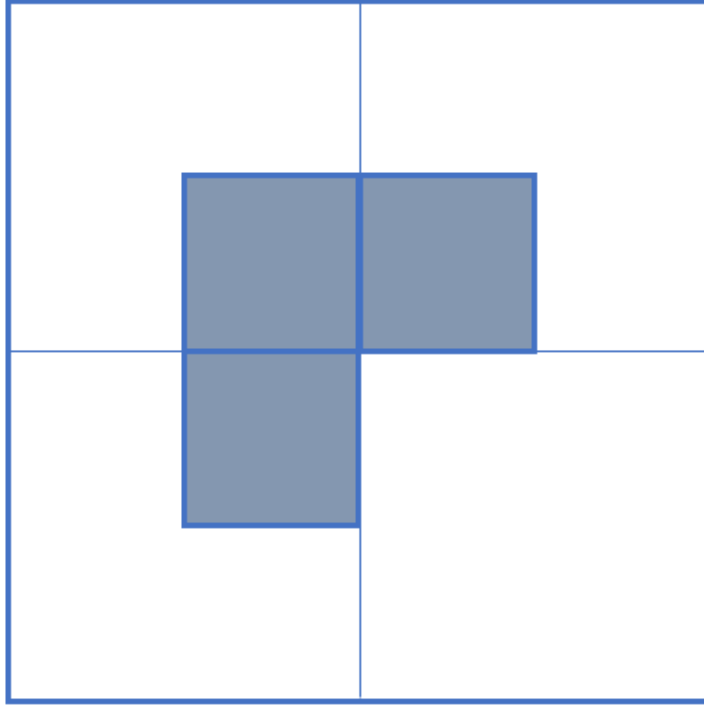
Bunu çözdüysen sıra bunda. Biraz daha zorlaştıralım. Unutma önemli olan düşünmek 😊

	X			

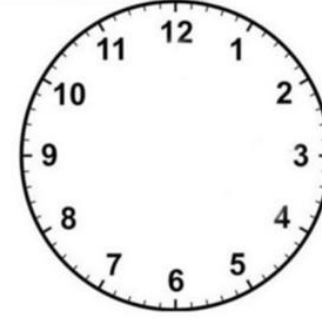
DOKUZ NOKTA



DÖRT BÖLGE



Aşağıdaki saati iki doğru kullanarak üç parçaya bölelim öyle ki bütün parçalardaki rakamların toplamı birbirlerine eşit olsun.



ÜÇ YAMYAM

- Bir derenin kenarında 3 yamyam ve 3 insan vardır. Bu yamyam ve insanları karşıya geçirmek için bir tane sandalınız vardır.
- Sandal sadece iki kişi taşımaktadır.
- Sandal boş dönememektedir.
- Yamyamların sayısı insanların sayısından fazla olduğunda yamyamlar insanlara zarar vermektedir.
- Bu bilgilere göre bütün insan ve yamyamları nasıl karşıya geçirebilirsiniz?

